



Steluța Dan • Carmen Camelia Rădulescu • Zamfir Datcu  
Nicolae Lazăr • Dumitru Voicu

**geografia**  
**româniei**

**8**

**Libris**.RO

Respect pentru oameni și cărți

**Steluța DAN**  
**Carmen Camelia RĂDULESCU**  
**Zamfir DATCU**  
**Nicolae LAZĂR**  
**Dumitru VOICU**

# Geografia României

## Caiet pentru clasa a VIII-a

**art**  
educațional

Argument .....	4
----------------	---

### PARTEA I. România – Elemente de geografie fizică

1. Poziția geografică .....	6
2. Relieful .....	8
2.1. Caracteristici generale .....	8
2.2. Unitățile majore de relief .....	9
2.2.1. Munții Carpați .....	9
2.2.2. Depresiunea Colinară a Transilvaniei .....	13
2.2.3. Dealurile și podișurile .....	14
2.2.4. Câmpiile .....	17
2.2.5. Lunca și Delta Dunării .....	19
2.2.6. Platforma continentală a Mării Negre .....	20
Relieful – Sintează .....	21
Test de autoevaluare – Relieful .....	30
3. Clima .....	32
3.1. Factorii genetici ai climei .....	32
3.2. Elementele climatice; tipuri și nuanțe de climă .....	32
Clima – Sintează .....	35
Test de autoevaluare – Clima .....	38
4. Apele .....	40
4.1. Dunărea și râurile interioare .....	40
4.2. Lacurile. Apele subterane .....	44
4.3. Marea Neagră .....	45
Apele – Sintează .....	48
Test de autoevaluare – Apele .....	52
5. Învelișul biopedogeografic (Vegetația, fauna și solurile) .....	54
Vegetația, fauna și solurile – Sintează .....	55
Test de autoevaluare – Vegetația, fauna și solurile .....	57

### PARTEA a II-a. România – Elemente de geografie umană

1. Populația României .....	62
Populația României – Sintează .....	65
Teste de autoevaluare – Populația României .....	67
2. Așezările umane .....	70
2.1. Așezările rurale. Tipuri de sate .....	70
2.2. Așezările urbane. Tipuri de orașe .....	71
3. Organizarea administrativ-teritorială a României .....	74
Așezările umane și organizarea administrativ-teritorială. Sintează .....	75
Teste de autoevaluare – Așezările umane și organizarea administrativ-teritorială .....	77
4. Resursele naturale și activitățile economice .....	78
4.1. Resursele naturale .....	78
4.2. Agricultură .....	80
4.3. Industria .....	81
4.4. Serviciile .....	84
Resursele naturale și activitățile economice. Sintează .....	86
Test de autoevaluare – Resursele naturale și activitățile economice .....	92

### PARTEA a III-a. România – Probleme fundamentale

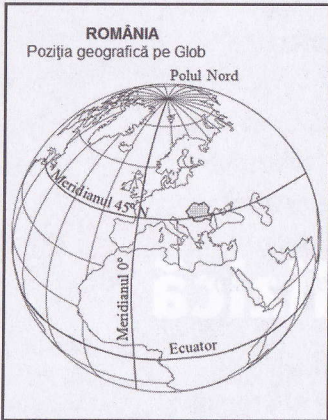
1. România în Europa și în lume .....	98
2. România – caracteristici ale mediului înconjurător .....	100
3. România – regiuni geografice .....	104
4. România – elemente ale dezvoltării durabile .....	106
România – Probleme fundamentale. Sintează .....	108

## Partea I

# România – Elemente de geografie fizică

# 1. Poziția geografică

Respect pentru oameni și cărți



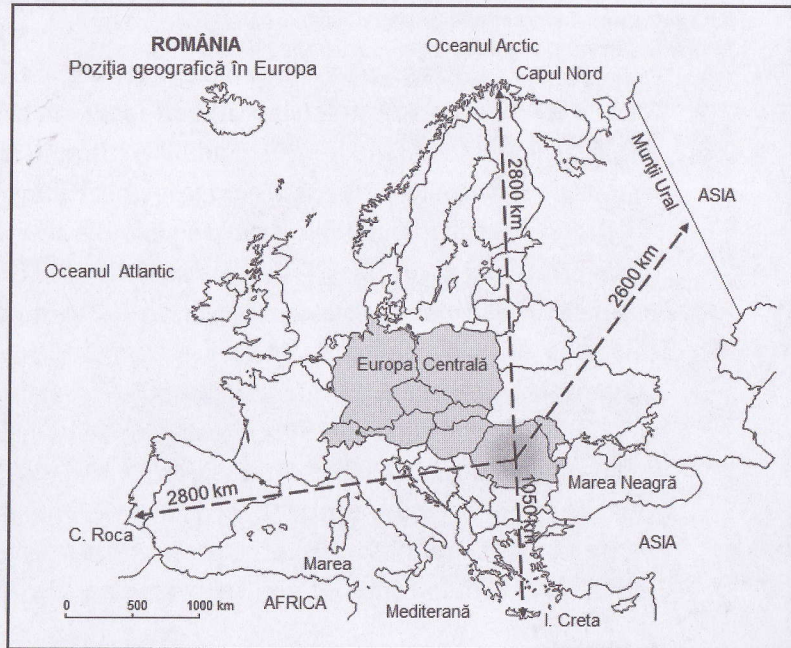
**A** Analizați poziția geografică a României pe Glob, redată în reprezentarea cartografică alăturată, și răspundeți următoarelor cerințe:

a. Explicați poziția geografică a României în Emisfera Nordică și, respectiv, în Emisfera Estică.

.....  
 .....

b. Argumentați afirmația „România este situată în plină zonă de climă temperată“.

.....  
 .....



**B** Precizați trei elemente fizico-geografice care definesc personalitatea geografică a spațiului românesc și argumentați răspunsul dat.

.....  
 .....

.....  
 .....

.....  
 .....

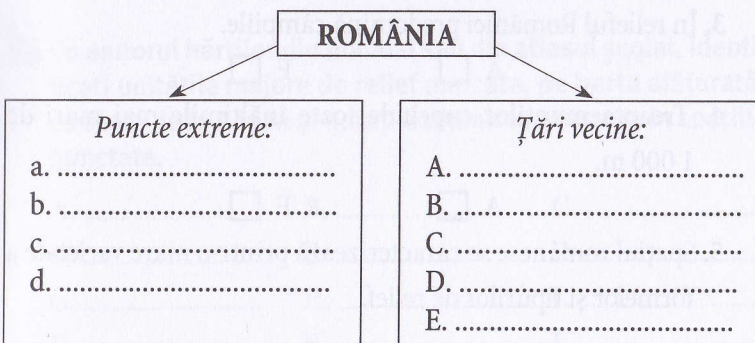
**C** Analizați harta alăturată, apoi completați propozițiile de mai jos cu informațiile corecte.

- România este situată în partea de sud-est a regiunii Europa .....
- Țara noastră este situată la distanțe aproximativ egale față de Oceanul ....., Oceanul ..... și de Munții .....
- La nivelul Europei, România este poziționată mai aproape de ..... decât de .....
- Datorită poziției sale în Europa, România prezintă o climă .....
- Pe teritoriul României se întrepătrunde limita vestică de extindere a ..... cu limita estică de extindere a .....

**D** Analizați reprezentarea cartografică alăturată și răspundeți următoarelor cerințe:

Respect pentru oameni și cărți

a. Completați spațiile libere cu informațiile corespunzătoare.



b. Identificați orașele marcate cu numere de la 1 la 6.

1. .... 4. ....
2. .... 5. ....
3. .... 6. ....

c. Explicați însemnătatea pentru spațiul românesc a fiecăreia

dintre coordonatele geografice prezentate mai jos:

- paralela de 45° lat N:

.....

.....

- paralela de 46° lat N:

.....

.....

- meridianul de 25° long E:

.....

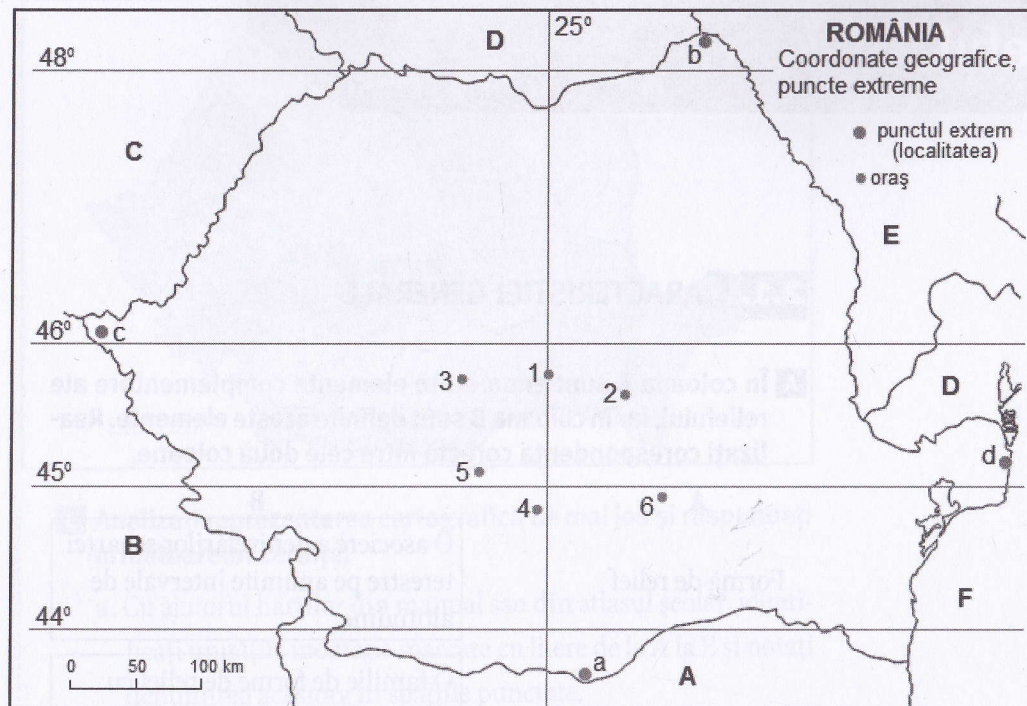
.....

d. Completați casetele cu informații corespunzătoare.

Teritoriul României se desfășoară pe circa

..... grade în latitudine

..... grade în longitudine



**E** În coloana A sunt notate punctele/localitățile extreme ale României, iar în coloana B coordonatele geografice (latitudinea și longitudinea) care definesc aceste puncte/localități extreme. Realizați corespondența corectă între cele două coloane.

A	B
Beba Veche	43°37' lat N și 25°23' long E
Horodiștea	45°09' lat N și 29°41' long E
Sulina	46°07' lat N și 20°15' long E
Zimnicea	48°15' lat N și 26°42' long E

## 2.1. CARACTERISTICI GENERALE

**A** În coloana A sunt enumerate elemente complementare ale reliefului, iar în coloana B sunt definite aceste elemente. Realizați corespondența corectă între cele două coloane.

A	B
Formă de relief	O asociere a denivelărilor scoarței terestre pe anumite intervale de altitudine.
Tip de relief	O familie de forme de relief cu elemente comune, rezultate din acțiunea predominantă a unui agent/factor.
Treaptă de relief	Întindere de teren bine individualizată, pe suprafața căreia există o anumită omogenitate a altitudinilor și a tipurilor de relief.
Unitate de relief	Aspectul concret al suprafeței terestre rezultat al interacțiunii agenților interni și externi.

**B** Citiți cu atenție afirmațiile de mai jos și stabiliți dacă sunt adevărate sau false. Marcați cu X caseta corespunzătoare răspunsului corect.

1. Relieful României se înscrie altitudinal între 0 m și 2 655 m.

A  F

2. România prezintă un relief cu o dispunere simetrică și în trepte concentrice.

A  F

3. În relieful României predomină câmpiile.

A  F

4. Treapta munților cuprinde toate înălțimile mai mari de 1 000 m.

A  F

5. Spațiul românesc se caracterizează printr-o mare varietate a formelor și tipurilor de relief.

**C** Se dă următoarea listă de noțiuni și denumiri: *treaptă, relief, câmpii, munți, dealuri și podișuri, varietate, dispunere concentrică, proporționalitate, forme, spațiul geografic.*

**Elaborați un text utilizând termenii din această listă.**

.....

.....

.....

.....

.....

.....

.....

.....

.....

.....

.....

.....

.....

.....

.....

.....

.....

.....

.....

.....

.....

.....

.....

## 2.2. UNITĂȚILE MAJORE DE RELIEF

Respect pentru oameni și cărți

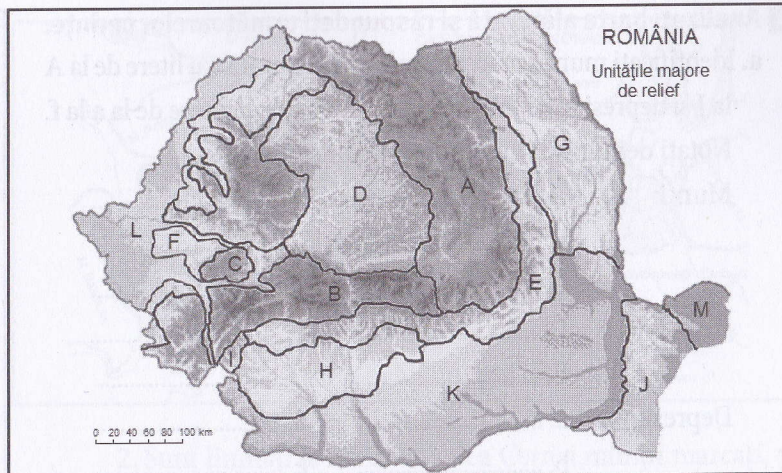
### 2.2.1. MUNȚII CARPAȚI

**A** Cu ajutorul hărților din manual sau din atlasul școlar, identificați unitățile majore de relief marcate, pe harta alăturată, cu litere de la A la M și notați denumirea acestora în spațiile punctate.

- A. .... B. .... C. ....  
 D. .... E. .... F. ....  
 G. .... H. .... I. ....  
 J. .... K. .... L. ....  
 M. ....

**B** Încercuiți litera corespunzătoare răspunsului corect.

- Altitudinea maximă (2 544 m) din România se află în:
  - Munții Apuseni
  - Munții Banatului
  - Munții Făgăraș
  - Munții Parâng
- Podișul cu cea mai mică întindere se numește:
  - Podișul Dobrogei
  - Podișul Getic
  - Podișul Mehedinți
  - Podișul Moldovei
- Are o înclinare a reliefului de la nord la sud unitatea numită:
  - Câmpia de Vest
  - Delta Dunării
  - Podișul Getic
  - Subcarpații
- Cea mai joasă unitate de relief din România se numește:
  - Câmpia Română
  - Dealurile de Vest
  - Delta Dunării
  - Podișul Mehedinți
- Este mărginită la vest, la sud și la est de Dunăre unitatea de relief numită:
  - Câmpia de Vest
  - Câmpia Română
  - Munții Banatului
  - Podișul Moldovei



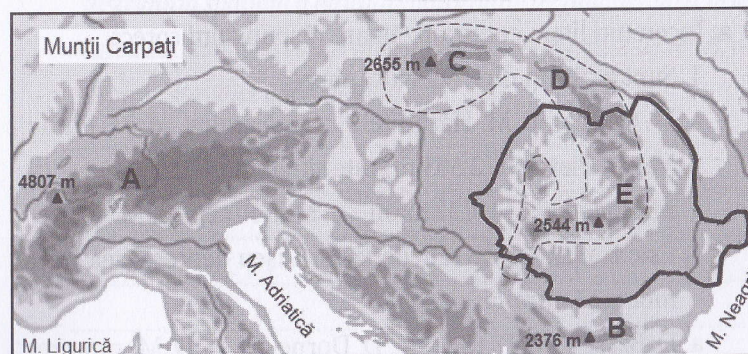
**C** Analizați reprezentarea cartografică de mai jos și răspundeți următoarelor cerințe:

a. Cu ajutorul hărților din manual sau din atlasul școlar, identificați unitățile montane marcate cu litere de la A la E și notați denumirea acestora în spațiile punctate.

- A. .... B. .... C. ....  
 D. .... E. ....

b. Completați spațiile libere de mai jos cu informațiile corespunzătoare.

- Vf. Botev – ..... m Vf. Gerlachovka – ..... m  
 Vf. .... – 2 544 m Vf. .... – 4 807 m





**D Analizați harta alăturată și răspundeți următoarelor cerințe:**

- a. Identificați munții marcați, pe harta alăturată, cu litere de la A la J și depresiunile intramontane marcate cu litere de la a la f. Notați denumirea acestora în spațiile punctate.

Munți: A ..... F .....  
 B ..... G .....  
 C ..... H .....  
 D ..... I .....  
 E ..... J .....  
 Depresiuni: a ..... d .....  
 b ..... e .....  
 c ..... f .....

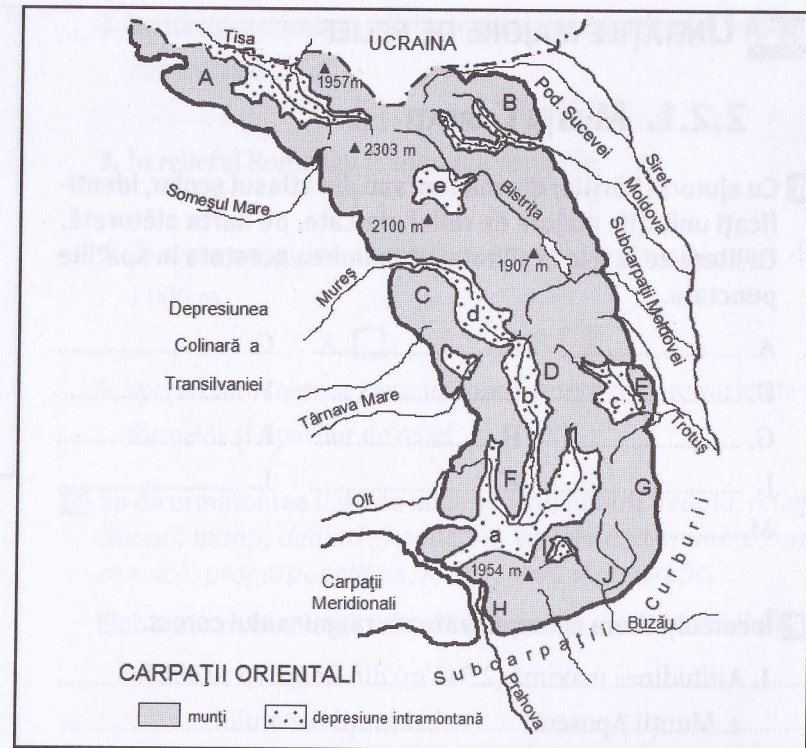
- b. Realizați corespondența corectă între culmile montane enumerate în coloana A și altitudinea maximă a acestora, notată în coloana B.

A	B
M. Călimani	1 907 m
M. Ceahlău	1 954 m
M. Ciucaș	1 957 m
M. Rodnei	2 100 m
M. Maramureș	2 303 m

**E Având în vedere caracteristicile Carpaților Orientali, răspundeți următoarelor cerințe:**

- a. Încercuiți litera corespunzătoare răspunsului corect.

- Sunt alcătuiți din roci vulcanice:  
 a. M. Ciucaș b. M. Harghitei c. M. Nemira d. M. Rarău
- Vârful Pietrosu (2 303 m) este situat în:  
 a. M. Bodoc b. M. Călimani c. M. Rodnei d. M. Țibleș
- Este traversată de râurile Iza și Vișeu depresiunea intramontană numită:  
 a. D. Brașov b. D. Ciuc c. D. Dornelor d. D. Maramureș



- Cel mai înalt pas din Carpații Orientali (1 416 m) se numește:  
 a. Racoș b. Predeal c. Prislop d. Tihuța
- Are un relief cu aspect de șes neted depresiunea intramontană numită:  
 a. Brașov b. Comănești c. Giurgeu d. Maramureș

- b. Scrieți răspunsurile corecte care completează afirmațiile de mai jos.
- Depresiunile intramontane Brașov și Ciuc comunică prin Pasul .....
  - Cei mai înalți munți ai flișului din estul Carpaților Orientali se numesc .....
  - Între munții Călimani și munții Gurghiuului se întinde defileul numit .....